

Corrigés des travaux du vendredi 20 mars

CM1

Grammaire : le complément du nom (ex. n°1)

un bain de pieds le fer à repasser une planche à roulettes
un fauteuil sans accoudoir un sac en plastique le gardien du zoo
une voiture avec chauffeur une cocotte en papier la brosse à dents
une boîte aux lettres la confiture de fraise un instrument de musique
la gare de Lyon des chaussures en cuir la salle à manger

Numération p. 133 n°1

rouge = 2/10 bleu = 7/10 vert = 13/10 jaune = 22/10

Problème

Je cherche la longueur d'un côté du carré.

$$784 : 4 = 196$$

Chaque côté de ce carré mesure 196 **cm**.

CM2

Grammaire p. 153 n°4

- Le brouillard automnal enveloppe la vallée du nord.
- Les chamois des montagnes cherchent des abris surs.
- Les touristes de la plaine parcourent les sentiers de randonnées.
- Les lacs d' altitude luisent sous les derniers rayons de soleil.

Conjugaison : le passé simple (ex. n°3)

- Je ménage*ai* mes efforts.
- Les rennes fil*èrent* dans la toundra.
- Nous approch*âmes* du bord de la falaise.
- Lilou éternua puis se moucha bruyamment.
- Mélissa et Louna se pouss*èrent* du coude et éclat*èrent* de rire.

Numération p.83 n°6

Les graduations représentaient des centièmes.

A= 7,59 B= 7,62 C= 7,66 D= 7,71 E= 7,81

Problèmes

1) Je cherche la longueur d'un côté du carré.

$$13,6 : 4 = 3,4$$

Un côté de ce carré mesure 3,4 **cm**.

2) Je cherche le prix d'un DVD.

$$58,50 : 6 = 9,75$$

Un DVD coute 9,75 **€**.

CM1 et CM2

Rédaction : les verbes du dialogue

« Veux-tu venir avec moi ? **demanda** maman.

- J'aimerais bien, mais je n'ai pas fini mon puzzle, **répliqua** Julien.

- C'est dommage ! Je pensais qu'on pourrait aller acheter ce jeu dont tu m'as parlé, **proposa** maman.

- Oh ! Super ! **s'écria** Julien. J'arrive tout de suite. Je finirai mon puzzle ce soir. »

- Eh bien, **se moqua** maman, j'aimerais que tu aies autant d'enthousiasme pour faire la vaisselle ! »


Nom :

CORRIGÉ

CM




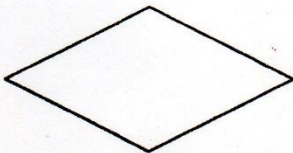
Les quadrilatères

① Colorie les carrés en bleu, les rectangles en rouge, les losanges en jaune.



② Écris un court texte pour faire deviner la figure que tu as choisi à ton camarade.

Il n'a pas d'angle droit. Il a 4 côtés. Ses côtés opposés sont égaux et parallèles (le PARALÉLOGRAMME).

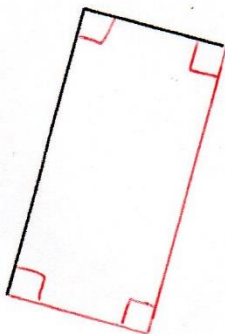


Il a 4 côtés égaux mais pas d'angle droit (le LOSANGE).

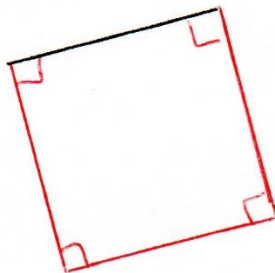
Il a 4 côtés égaux et 4 angles droits (le CARRÉ). Il a 4 angles droits

et 2 côtés qui sont égaux 2 à 2; ses côtés opposés sont parallèles (le RECTAN)

③ Termine le rectangle.



④ Termine le carré.



⑤ Termine le losange.

