

Mardi 24 mars 2020. (Pascale)

Correction du travail réalisé en CE2.

1- Rituel dictionnaire.

Dans le dictionnaire, cherche le mot souligné dans la phrase suivante et écris sa définition.

Quand le spectacle commence, les roulements de la grosse caisse et les coups de cymbales retentissent.

Cymbales :

n. f. instrument de percussion formé de deux plateaux de cuivre qui provoquent un son plus ou moins fort lorsqu'on les frappe l'un sur l'autre.



Le clown joue des cymbales.

2- Rituel dessinette lecture.

Réponds à la question suivante : De qui s'agit-il ?

Il est pourtant gentil et fait de son mieux pour que je ne sente rien. Mais, dès qu'il approche ses instruments de ma bouche, je ne pense qu'à m'enfuir.

Il s'agit du dentiste.

3- Dictée de mots

Dictée de mots

Dicter sur le cahier, et dans le désordre les mots invariables appris pour aujourd'hui : De parfois ... à autrefois.

Corriger les mots avec des erreurs au crayon de bois en s'aidant du cahier de mots

Production d'écrits :

A l'aide du poème copié au début de cette journée, inventer un autre poème qui aura pour titre lui aussi : Inventaire.

Voici un exemple de poème écrit par la maîtresse :

Inventaire

Une représentation

Deux clowns

Trois équilibristes

Quatre contorsionnistes

Une boîte

Des colombes

Un magicien illusionniste

Une douzaine de foulards un chapeau un lapin

Un cracheur de feu

Une roue de la mort

Six trapézistes

Une écuyère avec son cheval

Un Monsieur Loyal décoré du meilleur cirque du monde.

Un autre magicien illusionniste.

Pascal.

Mathématiques

Exercices 1,2 et 3 page 59 du manuel de mathématiques : Pour comprendre les mathématiques.

Exercice 1 : je m'entraîne :

a) A : 1 heure 10, B : 7 heures 30 ou 7 heures et demie.

b) C : 9 heures 55 ou 10 heures moins 5, D : 5 heures 20.

Exercice 2, je m'entraîne :

a) E : matin : 4 heures 45 ou 5 heures moins le quart

Soir : 16 heures 45

F : matin : 11 heures 30 ou 11 heures et demie

Soir : 23 heures 30.

b) G : matin : 11 h 15 ou 11 heures un quart

Soir : 23 heures 15.

H : matin : 9 heures 45 ou 10 heures moins le quart


Soir : 21 heures 45.


Problème : Cherifa est en retard, il est 8 h 45, l'école est commencé depuis 15 minutes (un quart d'heure).


Pour les plus rapides :


100
41 Lire l'heure

1 Écris l'heure affichée sur chaque horloge.


a.  Il est


b.  Il est


c.  Il est

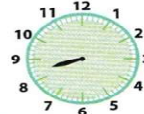
d.  Il est

2 La grande aiguille de ces horloges est cassée. Coche la bonne réponse.

a. 
 Il est midi.
 Il est 6 heures.

b. 
 Il est 5 heures.
 Il est 5 heures et demie.

c. 
 Il est 8 heures.
 Il est 8 heures et demie.

d. 
 Il est 9 heures.
 Il est 8 heures 30 minutes.

Pour aller plus loin :

1- a : Il est 6 heures 15 ou 6 heures un quart / Il est 18 heures 15

b- Il est 12 heures 25 ou midi 25 / Il est minuit 25.

c- Il est 10 heures 10 / Il est 22 heures 10.

d- Il est 2 heures 50, ou 3 heures moins 10 / Il est 14 heures 50.

2- a- Il est midi. (la petite aiguille est juste sur le 12)

b- Il est cinq heures et demie (la petite aiguille est entre le 5 et le 6).

c- Il est huit heures (la petite aiguille est juste sur le 8)

d- Il est 8 heures 30. (la petite aiguille est entre le 8 et le 9)