

## CALCULS : vers la multiplication



1 Ecris le nombre de voitures de plusieurs façons :






$$\underline{\quad} + \underline{\quad} + \underline{\quad} + \underline{\quad} = \underline{\quad}$$

$$\underline{\quad} + \underline{\quad} + \underline{\quad} + \underline{\quad} + \underline{\quad} = \underline{\quad}$$

On peut aussi écrire :  $\underline{\quad} \times \underline{\quad}$  ou  $\underline{\quad} \times \underline{\quad}$

2 Voici des pommes, Lisa a fait plusieurs paquets.

Complète les calculs:



$$\underline{\quad} \times \underline{\quad} = \underline{\quad}$$

$$\underline{\quad} \times \underline{\quad} = \underline{\quad}$$

$$\underline{\quad} \times \underline{\quad} = \underline{\quad}$$

## Problème :

Juliette, Laurie et Dorothée jouent aux cartes.  
Chacune a 5 cartes dans la main.  
Combien y a-t-il de cartes en tout?

dessin ou calcul :

phrase réponse :
