


Prénom : \_\_\_\_\_

Date: \_\_\_\_\_

## CALCULS : vers la multiplication



1 Ecris le nombre de hérissons de plusieurs façons :

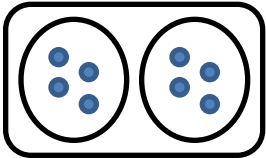


$$\underline{\quad} + \underline{\quad} + \underline{\quad} = \underline{\quad}$$

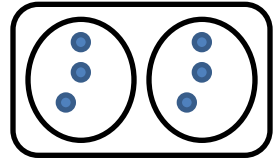
$$\underline{\quad} + \underline{\quad} + \underline{\quad} + \underline{\quad} + \underline{\quad} = \underline{\quad}$$

On peut aussi écrire :  $\underline{\quad} \times \underline{\quad}$  ou  $\underline{\quad} \times \underline{\quad}$

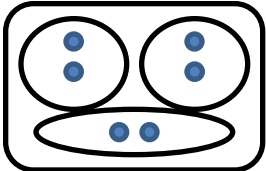
2 Relie chaque dessin à la multiplication qui convient :



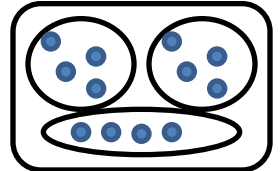
$$4 \times 2$$



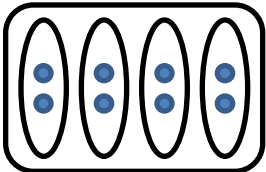
$$2 \times 3$$



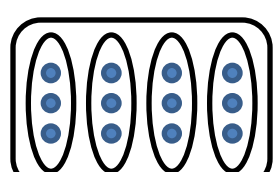
$$3 \times 2$$



$$3 \times 4$$



$$2 \times 4$$



$$4 \times 3$$

## Problème :

Un poulet rôti a 2 cuisses.

Maman a acheté 3 poulets.

Combien y a-t-il de cuisses en tout?

dessin ou calcul :

phrase réponse :
