

Classe CE1-CE2

Mardi 26 mai 2020

Travail à réaliser en CE2

Rituel : répondre à des questions à partir de textes courts.

Cléo page 21, exercices 8 et 9.

Lecture et production d'écrits


Voici la suite de l'album du voyage d'Oregon.

L'histoire de Duke et d'Oregon se passe au début de l'histoire et au début du départ d'Oregon et de Duke, aux Etats Unis, dans une ville près de Pittsburgh en Pennsylvanie aux Etats Unis, puis ensuite à Chicago, autre ville des Etats Unis. Tu peux avec tes parents chercher sur une carte des états unis où se trouvent ces deux villes.

A l'aide des quatre illustrations suivantes, invente le texte que toi tu aurais écrit à la place de l'auteur.

*N'oublie pas que l'auteur fait parler Duke, tu dois donc te mettre à la place de Duke pour écrire les phrases qui correspondent aux illustrations. Pour cela, utilise le pronom **je**.*





Mathématiques

Aujourd'hui, nous nous entraînons à nouveau à tracer des cercles :

Manuel de mathématiques, page 120 :

- *Exercice 2b,*
- *Exercice 3.*











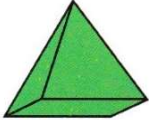

Puis nous apprenons une nouvelle notion en géométrie : les solides.

Nous allons apprendre à les reconnaître et à les décrire.

Observe bien le tableau ci-dessous.

Tu cherches des objets chez toi ou dans la classe que tu peux classer en plus dans le tableau ci-dessous.


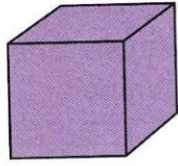
Voici 6 types de solides.

 boule	
 cylindre	
 cône	
 cube	
 pavé droit	
 pyramide	

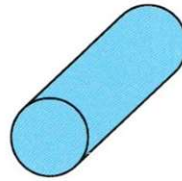

Quels autres objets ont la forme de ces différents solides ?

J'observe


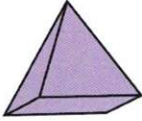

Les cubes et les pavés droits ont chacun 6 surfaces planes.
On peut les empiler.
On ne peut pas les faire rouler.



Les cylindres ont 2 surfaces planes et 1 surface courbe.
On peut les empiler.
On peut les faire rouler.



1 Complète le tableau.

Solides	Nombre de ...		Peut-on les faire rouler ?	Peut-on les empiler ?
	surfaces planes	surfaces courbes		
				
				
				

Complète la page 102 du livre de mathématiques Ce2 pour comprendre les maths : exercice découvrons ensemble.



Un polyèdre est un solide qui ne roule pas.

Dictée de mots

Les mots de la liste précédente sont dictés en désordre.

Copie

Sur ton cahier de poésie, recopie le début de la poésie de Jacques Prévert

Copie les douze premiers vers et illustre la poésie.

Lecture et enseignement moral et civique.

- Une vidéo pour réfléchir :

C'est quoi un ami : « Les p'tis philos »

<https://www.youtube.com/watch?v=A9gFokK-4X8>

- Un texte pour aller plus loin :

Un texte extrait du Petit prince (feuilles de lecture à la suite de la journée des Ce2)

Pour la semaine prochaine, tu apprends les mots suivants :

Mots et révision de certains mots – semaine 5 période 5.			
habiter	une cabane	dur - dure	depuis
vouloir	de l'huile		
savoir	la lecture		
lire	une paire		
	un centime		
	un cartable		
	les habits		