

Correction Mardi 5 mai

Anglais

Yesterday, it was Monday the 4th of Mai

Today, it is Tuesday the 5th of Mai

Tomorrow, it will be Wednesday the 6th of Mai

Histoire

■ Art. 1. Défendons à tous nos sujets de se provoquer l'un l'autre par reproche de ce qui s'est passé.

■ Art. 3. Ordonnons que la religion catholique sera rétablie en tous lieux et endroits de notre royaume.

■ Art. 6. Permettons à ceux de ladite Religion Prétendue Réformée de vivre et demeurer par toutes villes et lieux de notre royaume, sans être inquiétés ni molestés.

■ Art. 11. Ordonnons que dans les faubourgs d'une ville, outre celles déjà accordées, l'exercice de ladite Religion Prétendue Réformée se pourra faire publiquement par tous ceux qui voudront y aller.

■ Art. 22. Ordonnons qu'il ne sera fait ni différence ni distinction entre les religions pour être admis dans les universités, collèges et écoles, dans les hôpitaux et les léproseries.

D'après le texte de l'Edit de Nantes (1598),
Henri IV

Comment Henri IV appelle-t-il le protestantisme ?

**Il l'appelle la Religion Prétendue Réformée
(Art.6 et Art.11)**

Pourquoi peut-on dire qu'Henri IV veut mettre fin aux guerres de religion ?

Il prône la tolérance et ordonne qu'il n'y ait pas de différence entre les catholiques et protestants. (art.22)

Fais des recherches et complète la fiche biographique d'Henri IV.



Henri de Navarre

Né en ...1553... à ...Pau.....

Mort en ...1610... à ...Paris.....

Roi de ...Navarre..... à partir de 1572.

Roi de ...France..... à partir de 1589.

Chef des ...protestants....., il s'est converti au
.....catholicisme..... pour devenir roi de France. Il a mis fin aux

guerres de religion et signé l'édit de ...Nantes..... en

.....1598.. : celui-ci accordait aux protestants le droit de
pratiquer leur religion. En ...1610....., il a été assassiné par

François Ravailac un catholique fanatique. On rapporte que, lors de la
bataille d'Ivry contre les Espagnols en 1590, Henri IV aurait incité ses

troupes à bien garder le rang en disant : « Ralliez-vous à mon
panache blanc, vous le trouverez toujours sur le chemin de la gloire."

⑥ Calcule ces durées.

- 2 h 20 min + 50 min = **3 h 10 min**
- 5 min 40 s + 1 min 25 s = **7 min 5 s**
- 3 h 55 min + 1 h 15 min = **5 h 10 min**
- 9 min 45 s + 7 min 50 s = **20 min 55 s**
- 3 h 29 min 30 s + 1 h 40 min 40 s = **6 h 51 min 50 s**

N'oublie pas de convertir les durées si nécessaire.



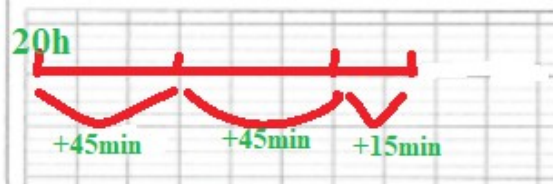
⑦ Continue la suite des durées.

2 h 27	2 h 37	2 h 47	2h57	3h07	3h17	3h27
4 h 44	4 h 49	4 h 54	4h59	5h04	5h09	5h14
9 h 50	9 h 30	9 h 10	8h50	8h30	8h10	7h50
3 h 15	2 h 45	2 h 15	1h45	1h15	0h45	0h15

LES MATHS DANS LA VIE

- ⑧ Un match de football dure deux périodes de 45 minutes et une mi-temps de 15 minutes. Le match OM- PSG a débuté à 20 h.

À quelle heure s'est-il terminé ?

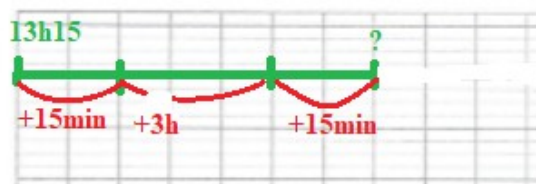


$$105\text{min} = 60\text{min} + 45\text{min}$$

Le match dure 1h et 45 min. Il se termine donc à 21h45.

- ⑨ Pour se rendre à la piscine, Jordane roule 15 minutes à vélo. Elle prévoit de rester 3 h à se baigner avec ses amis.

À quelle heure va-t-elle revenir si elle part à 13 h 15 ?



Jordane roule 15min à l'aller puis 15min au retour, elle reste 3 h à la piscine. Elle rentrera donc à 16h45.

Voici le dialogue entre Rémi et Mattia:

« Garofoli est toujours votre maître ? »

Il regarda autour de lui avant de répondre. Alors, baissant la voix :

« Garofoli est en prison. On l'a arrêté parce qu'il a fait mourir Orlando pour l'avoir trop battu. »

« Et les enfants ? » dis-je.

– Ah ! je ne sais pas, je n'étais pas là quand Garofoli a été arrêté. Garofoli, voyant que je n'étais pas bon à battre sans que ça me rende malade, a voulu se débarrasser de moi, et il m'a loué pour deux ans, payés d'avance, au cirque Gassot. Vous connaissez le cirque Gassot ? Non. Eh bien, ce n'est pas un grand, grand cirque, mais c'est pourtant un cirque. Ils avaient besoin d'un enfant pour la dislocation, et Garofoli me loua au père Gassot. Je suis resté avec lui jusqu'à lundi dernier, et puis on m'a renvoyé parce que j'ai la tête trop grosse maintenant pour entrer dans la boîte, et aussi trop sensible. Alors, je suis venu de Gisors où est le cirque pour rejoindre Garofoli, mais je n'ai trouvé personne, la maison était fermée, et un voisin m'a raconté ce que je viens de vous dire.

– Et maintenant, lui dis-je, que voulez-vous faire ?

– J'allais tâcher de vendre mon violon quand vous m'avez parlé, et je l'aurais déjà vendu, si cela ne me faisait pas chagrin de m'en séparer. Mon violon, c'est ma joie et ma consolation. Quand je suis trop triste, je cherche un endroit où je serai seul, et je joue pour moi. Alors, je vois toutes sortes de belles choses dans le ciel. C'est bien plus beau que dans les rêves, ça se suit.

– Alors, pourquoi ne jouez-vous pas du violon dans les rues ?

– J'en ai joué, personne ne m'a donné. »

Je savais ce que c'était que de jouer sans que personne mît la main à la poche.

« Et vous ? demanda Mattia, que faites-vous maintenant ? »

Je ne sais quel sentiment de vantardise enfantine m'inspira :

« Mais je suis chef de troupe », dis-je.

En réalité cela était vrai, puisque j'avais une troupe composée de Capi, mais cette vérité frisait de près la fausseté.

« Oh ! si vous vouliez ? dit Mattia.

– Quoi ?

– M'enrôler dans votre troupe. »

Alors, la sincérité me revint.

« Mais voilà toute ma troupe, dis-je en montrant Capi.

– Eh bien, qu'importe, nous serons deux. Ah ! je vous en prie, ne m'abandonnez pas. Que voulez-vous que je devienne ? Il ne me reste qu'à mourir de faim.

– Venez avec moi, lui dis-je, mais pas comme domestique, comme camarade. »

Et remontant la bretelle de ma harpe sur mon épaule :

« En avant ! » lui dis-je.

→ Surligne en jaune ce qui est dit par le narrateur.

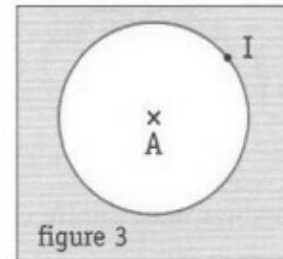
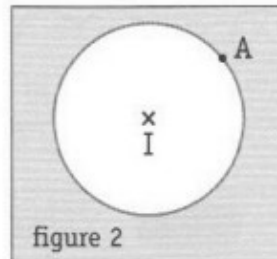
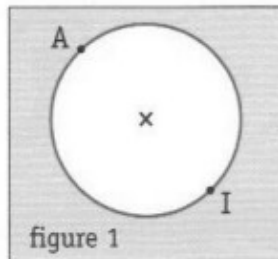
Surligne en vert les paroles prononcées par Rémi.

Surligne en bleu les paroles prononcées par Mattia.

Le narrateur est celui qui raconte l'histoire (le verbe « narrer » est synonyme de « raconter »). Il est souvent un personnage imaginaire, créé par l'auteur uniquement pour raconter l'histoire. Mais il peut aussi être un personnage réel qui raconte une expérience vécue, ici le narrateur est le personnage de Rémi.

Géométrie

1. Retrouve la figure qui correspond à chaque phrase.



- Le cercle passe par le point I et a pour centre A:
- Le cercle passe par les points A et I:
- Le cercle passe par le point A et a pour centre I:

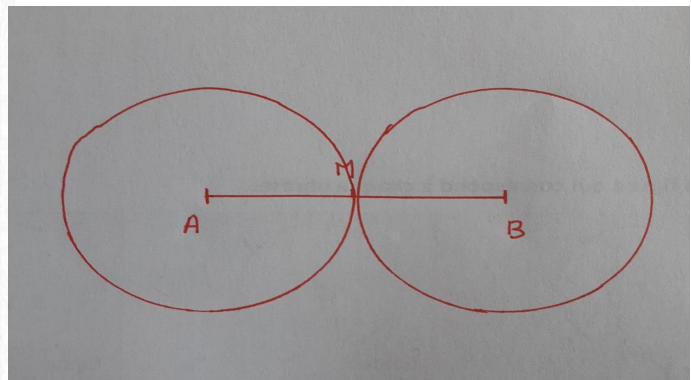
Figure 3

Figure 1

Figure 2

2. Lis le programme de construction puis trace la figure.

- **Trace** un segment AB de 5 cm de longueur.
- **Place** le point M, milieu de AB.
- **Trace** le cercle de centre A et de rayon AM.
- **Trace** le cercle de centre B et de rayon BM.



3. Complète les phrases avec les étiquettes proposées:

rayon

centre

diamètre

- Le **diamètre** d'un cercle est deux fois plus grand que son **rayon**.
- Le milieu d'un **diamètre** est toujours le **centre** du cercle.